








   **Petits Problemes** 1




Alex ramasse 7 pommes et Lisa ramasse 5 pommes. Ils posent toutes les pommes dans un panier.
Combien y a t-il de pommes dans le panier ? 

   **Petits Problemes** 2

Moustik a trouvé 10 croquettes. Il veut les ranger dans ses deux gamelles.
Combien y aura t-il de croquettes dans chaque gamelle ? 

   **Petits Problemes**

Alex a 5 voitures, Lisa a 4 voitures et Moustik en a 5. Ils posent toutes les voitures dans une boîte.
Combien y a t-il de voitures dans la boîte ?

   **Petits Problemes**

Alex a gagné 10 billes, Lisa a gagné 10 aussi. Elle les donne à Alex.
Combien de billes Alex a t-il ?

   **Petits Problemes**

Lisa a 10 perles dans sa boîte, Moustik lui enlève 2 perles.
Combien y a t-il de perles dans la boîte ? 

   **Petits Problemes**

Moustik a 15 perles dans sa boîte, Lisa lui enlève 5 perles.
Combien y a t-il de perles dans la boîte ? 