





<b>1</b>	65 voitures sont transportées dans des wagons. Dans chaque wagon, on peut mettre 3 voitures. <i>Combien faut-il de wagons pour transporter toutes les voitures ?</i>	

<b>2</b>	A l'école Picasso, il y a 3 classes de 25 élèves et 2 classes de 26 élèves. <i>Combien y a-t-il d'élèves en tout à l'école Picasso ?</i>	

<b>3</b>	Dans l'autobus il y a des voyageurs. A Lailly, 15 personnes montent dans le bus. Maintenant il y a 37 personnes dans le bus. <i>Combien le bus transportait-il de voyageurs avant d'arriver à Lailly ?</i>	

<b>4</b>	Dans son porte-monnaie, Madame Blanc a 3 billets 100 €, 1 billet de 50 €, 4 billets de 10€, 5 pièces de 2€ et 3 jetons de caddie en plastique. <i>Combien a-t-elle d'argent en tout ?</i>	

3 étoiles : Une si l'opération ou le dessin sont adaptés, une si le résultat est juste, une si la phrase réponse est bien formulée  
+ 1 cœur –bonus si l'orthographe est correcte.