

# Mesures de masse (2) - Le kilogramme

## GRANDEURS ET MESURES


Compétences : Mesurer la masse d'un objet. Utiliser l'unité usuelle : le kilogramme.

Calcul mental : Donner un nombre présentée sous la forme

« ... cent ... » > 499.


Photothèque : Parcours A et B, p. 93

1 Noé pèse les courses en kilogrammes. Quelle est la masse de chaque achat ?



kg

Entoure l'achat le plus lourd.  
Le filet d'oranges







kg

Le pack de bouteilles d'eau

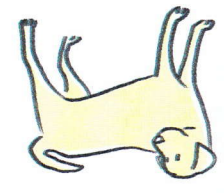



2

Relie chaque objet à sa masse. Utilise ta règle.

			
4 kg	26 kg	1 kg	170 kg

3

Numérote ces chiens de 1 à 5, du plus léger au plus lourd.

			
<input type="text"/> 35 kg	<input type="text"/> 27 kg	<input type="text"/> 43 kg	<input type="text"/> 48 kg
<input type="text"/>	<input type="text"/>	<input type="text"/>	<input type="text"/> 37 kg