


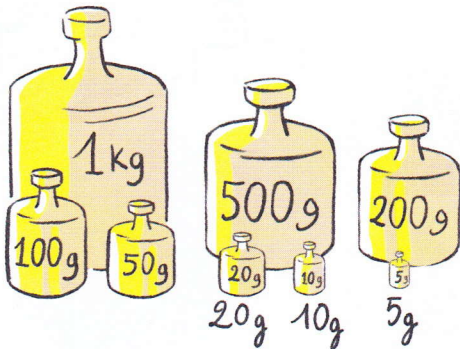
Compétences : Mesurer la masse d'un objet. Utiliser l'unité usuelle : le gramme.

Calcul mental : S'entraîner sur la table de multiplication par 5.

Photofiche : Parcours A et B, p. 93






1 Lola utilise ces masses marquées pour peser une pomme. Combien pèse la pomme ?



La pomme pèse grammes.

2 Noé a pesé ces aliments. **Observe** les pesées et **écris** la masse de chaque aliment.



3 Ce tableau indique les masses marquées utilisées pour peser les aliments. **Calcule** la masse de chacun d'eux et **complète** le tableau comme dans l'exemple.

	100 g	50 g	20 g	10 g	5 g	Total
un bol de riz	X	X	X			170 g
une tomate		X	X	X	
une banane			X		X
un pot de confiture	X	X	X	X	X

Relie ces nombres à leur place sur la droite graduée.

