

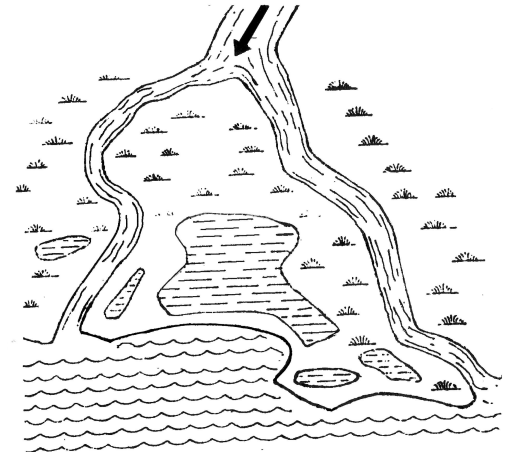

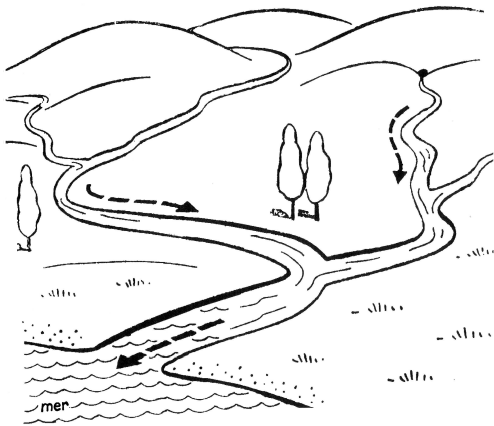


LES FLEUVES ET LES RIVIÈRES FRANÇAIS

www.alencreviolette.fr

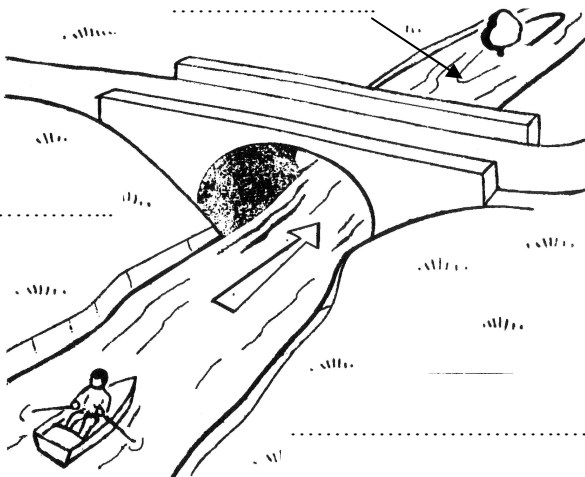
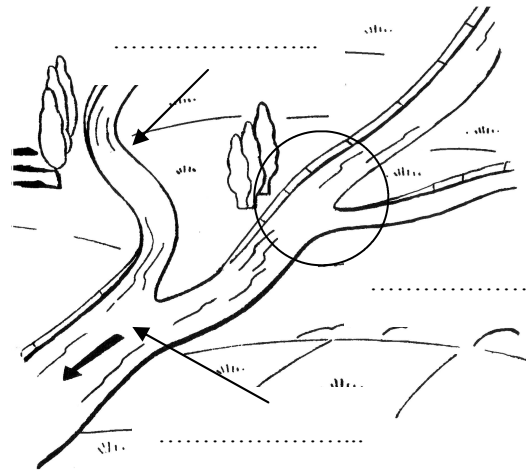
Une **source** donne naissance au **fleuve**. Il coule en descendant d'une région élevée (l'amont) vers une région basse (l'aval) et va se jeter dans la mer au niveau d'une **embouchure**. Quand celle-ci est très large, cela s'appelle un **estuaire**. Si le fleuve se sépare en plusieurs bras, on appelle cela un **delta**.

1 Complète les pointillés.



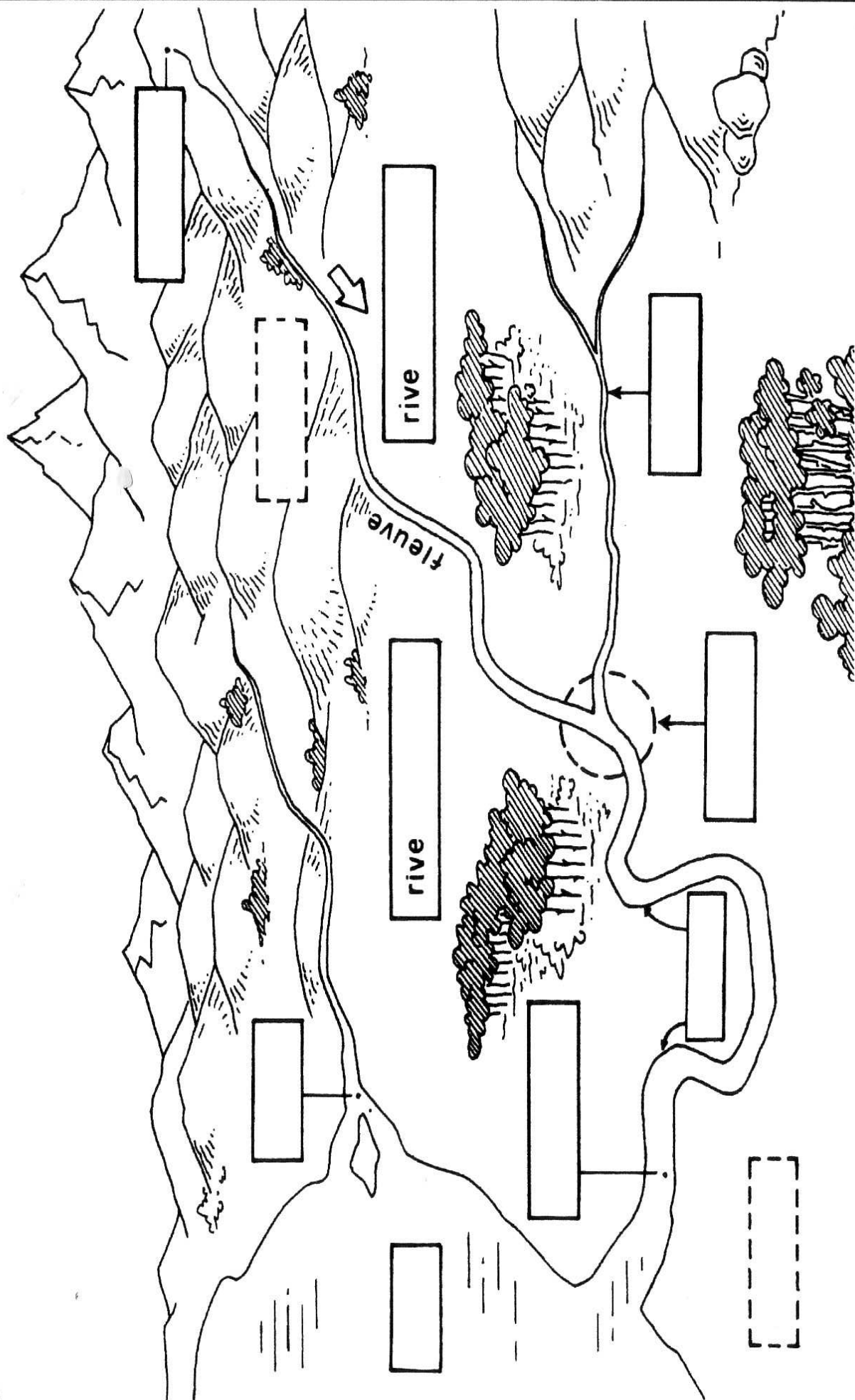
Une **rivière** est un cours d'eau qui se jettera dans un autre cours d'eau.

D'autres rivières peuvent apporter de l'eau au fleuve, ce sont les **affluents**. De nombreux affluents viennent grossir les fleuves. L'endroit où deux cours d'eau se réunissent s'appelle un **confluent**.



Le **lit** d'un fleuve désigne tout l'espace occupé par un cours d'eau. En suivant le sens du courant, on trouve la **rive droite** à droite et la **rive gauche** à gauche.

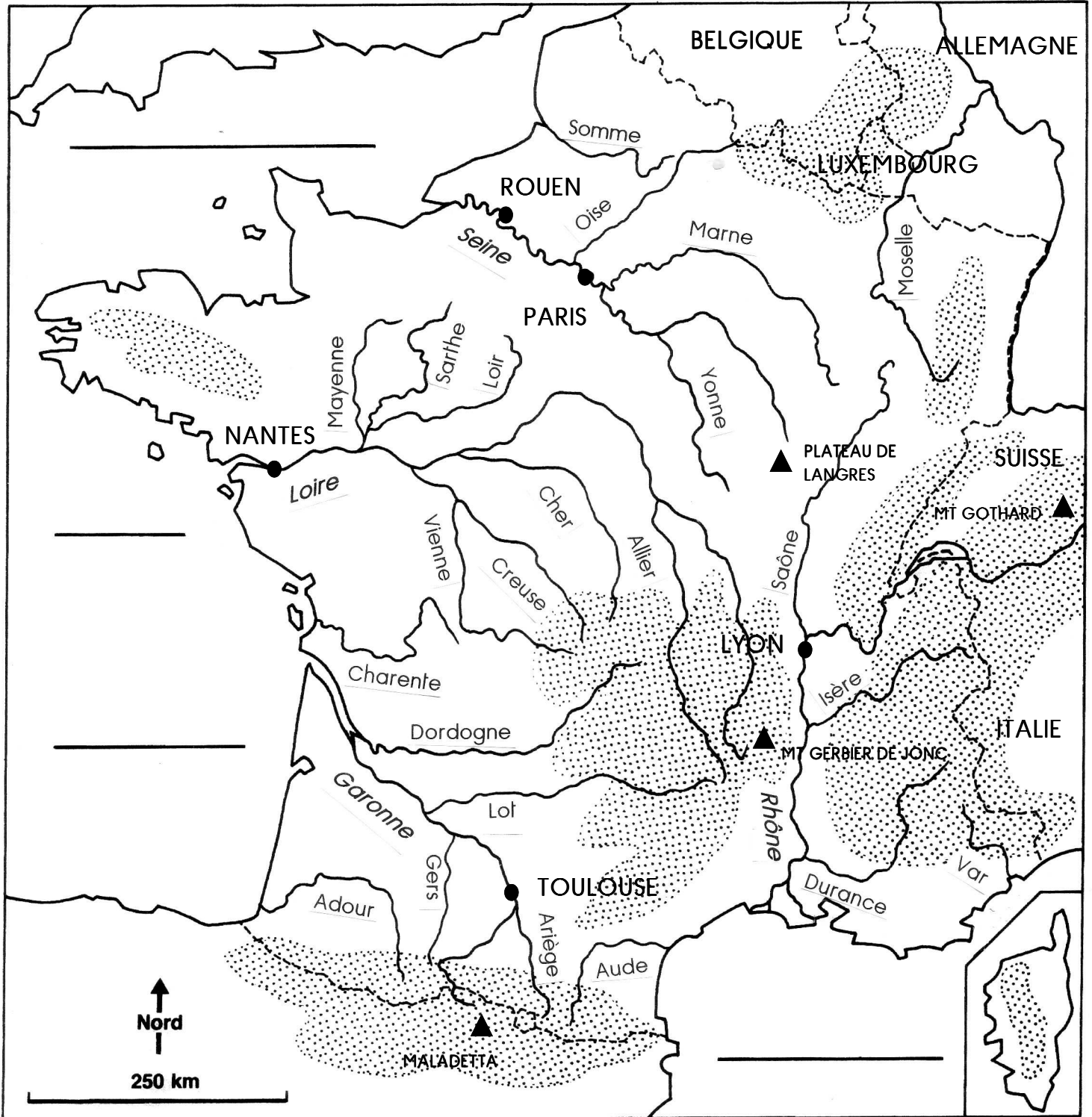
Les cours d'eau



• Complète le dessin avec les mots **en gras** du texte.
Une **source** donne naissance au fleuve. Il coule en descendant d'une région élevée vers une région basse ou comme on dit de l'**amont** vers l'**aval**. En suivant le sens du courant, on a à sa droite la **rive droite** et à sa gauche la **rive gauche**.

D'autres rivières apportent leurs eaux au fleuve, ce sont ses **affluents**. L'endroit où les cours d'eau se rencontrent est le **confluent**. Parfois le fleuve forme des boucles : les **méandres**.
Le fleuve se jette dans la **mer** par une **embouchure** ou un **delta** qui est une embouchure à plusieurs bras.

2 Ecris le nom des mers ou des océans. Repasse les fleuves et leurs affluents selon la légende, puis réponds aux questions.



bleu	La Loire et ses affluents
violet	La Seine et ses affluents
orange	La Garonne et ses affluents
rose	Le Rhône et ses affluents
rouge	Autres fleuves et rivières

3 En t'aidant de la carte, écris pour chacun de ces fleuves le nom de ses affluents.

a. Le bassin fluvial de la Loire :

b. Le bassin fluvial de la Seine :

c. Le bassin fluvial de la Garonne :

d. Le bassin fluvial du Rhône :

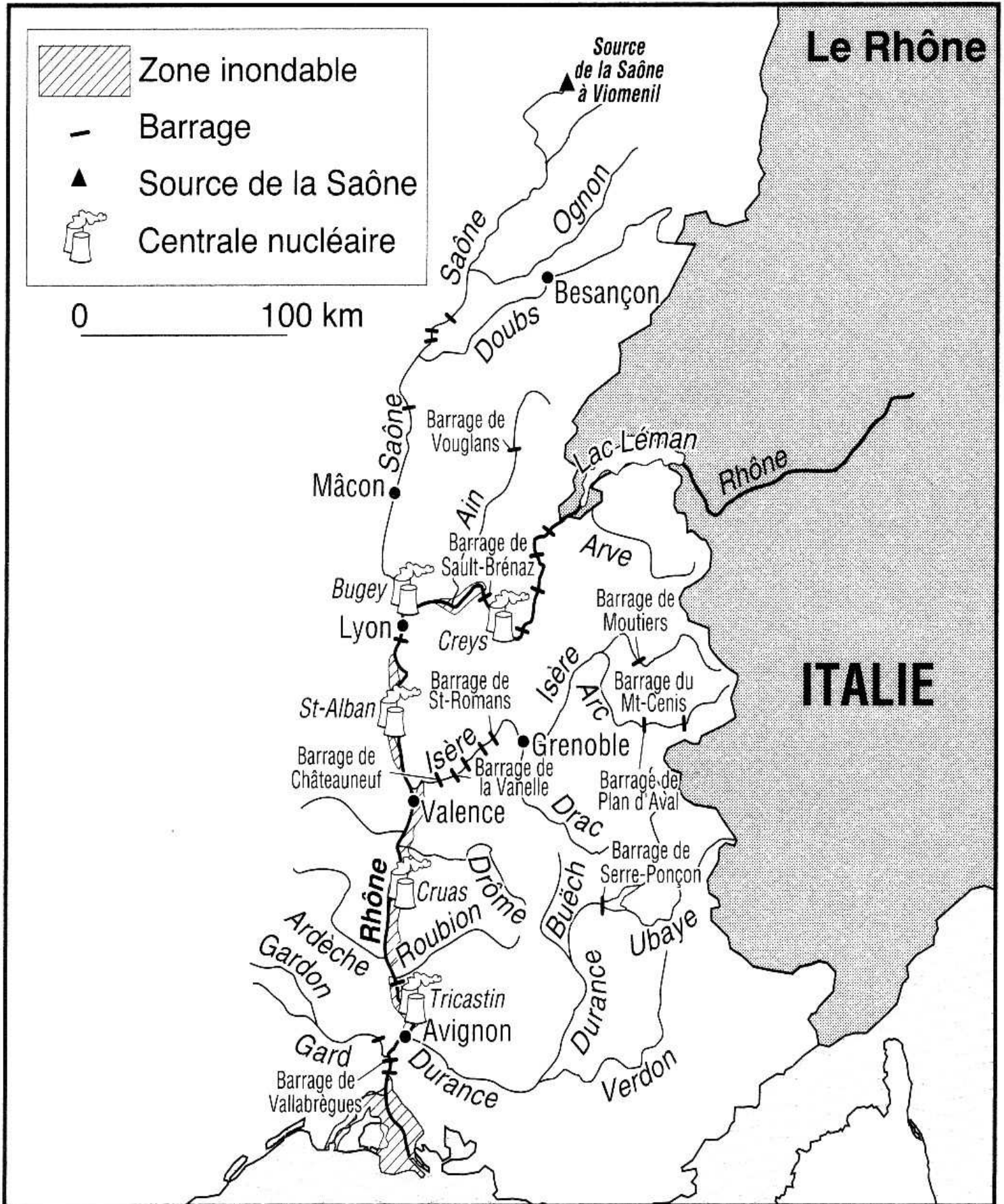
4 Complète le tableau ci-dessous.

PREND SA SOURCE ...	FLEUVE	SE JETTE DANS LA MER OU L'OcéAN ...
.....	LA SEINE
.....	LE RHÔNE
.....	LA GARONNE
.....	LA LOIRE

5 Coche la bonne réponse dans le tableau ci-dessous.

 est traversé par	La Seine	La Loire	La Garonne	Le Rhône
PARIS				
LYON				
TOULOUSE				
NANTES				
ROUEN				

⑥ Colorie les zones inondables en rouge et surligne en jaune les noms des principaux barrages. Colorie les centrales nucléaires en violet.



7 Place le nom des affluents du Rhône.

8 Ecris en rouge le nom des villes suivantes :

Lyon, Marseille, Grenoble, Genève, Avignon, Chalon-sur-Saône, Besançon.

9 Ecris le nom des trois massifs montagneux où les principaux cours d'eau prennent leur source.

LE BASSIN FLUVIAL DU RHÔNE

