



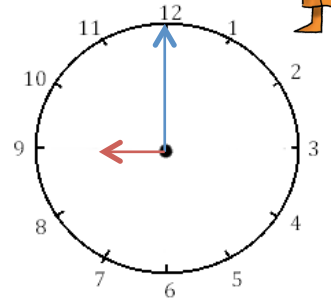
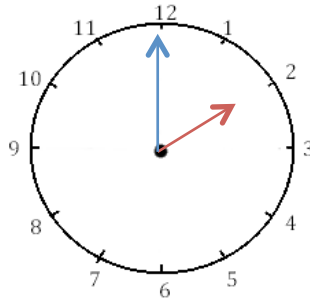
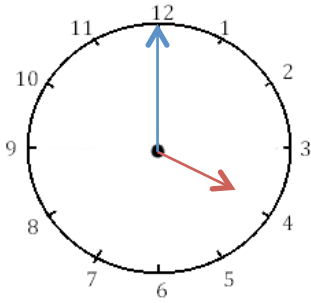
Mesures

Fiche 1

Les heures

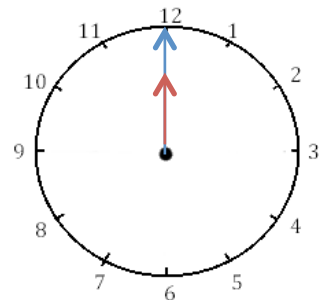
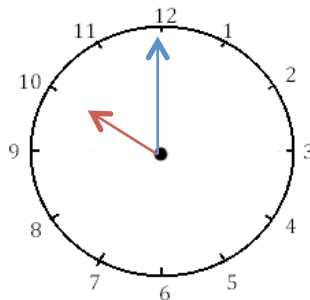
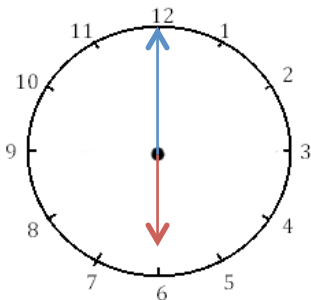


1 J'écris les heures indiquées sur ces horloges. Nous sommes le matin.




Il est ___ h et ___ min. Il est ___ h et ___ min. Il est _____.

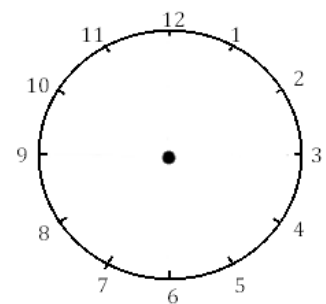
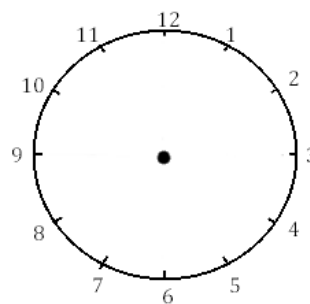
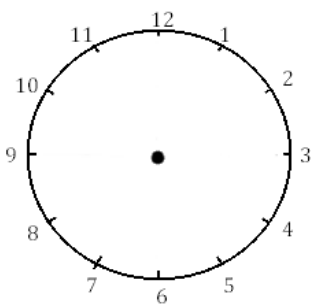
2 J'écris les heures indiquées sur ces horloges. Nous sommes le matin.



Il est ___ h et ___ min. Il est ___ h et ___ min. Il est _____.



3 Je place les aiguilles selon les heures indiquées. (heures en rouge, minutes en bleu)



Il est 3 h 00 min. Il est 11 h 00 min. Il est 5 h 00 min.

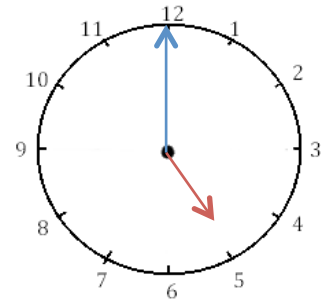
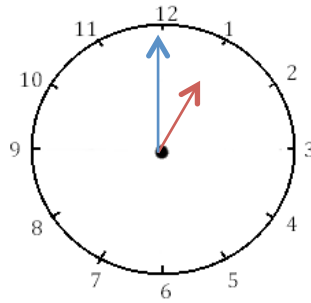
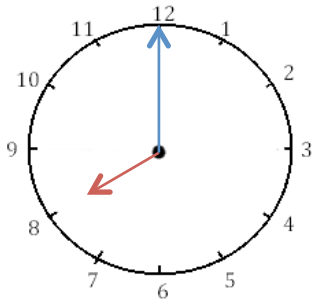


Mesures

Fiche 3

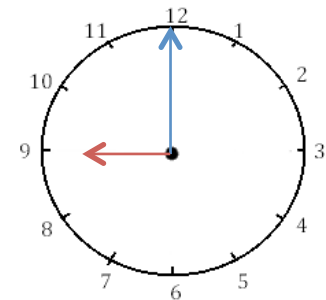
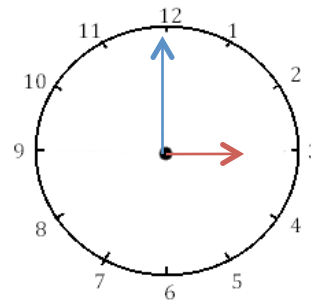
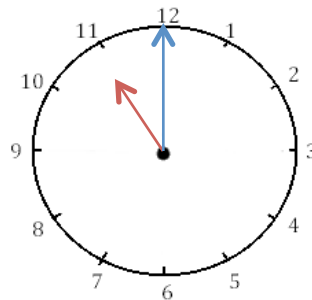
Les heures

1 J'écris les heures indiquées sur ces horloges. Nous sommes l'après-midi.



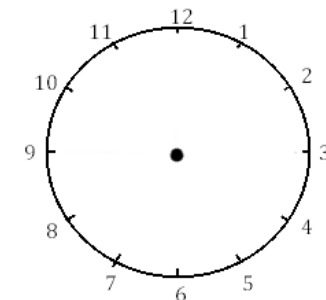
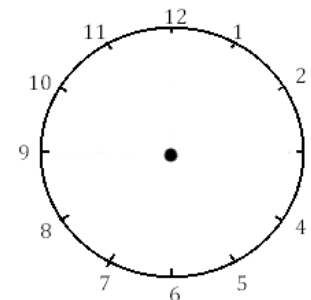
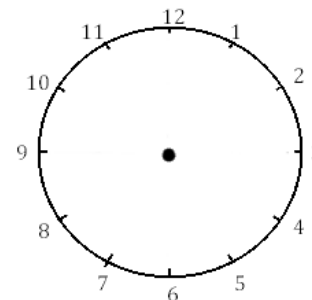
Il est ___ h et ___ min. Il est ___ h et ___ min. Il est ___ h et ___ min.

2 J'écris les heures indiquées sur ces horloges. Nous sommes le matin.



Il est ___ h et ___ min. Il est ___ h et ___ min. Il est ___ h et ___ min.


3 Je place les aiguilles selon les heures indiquées. (heures en rouge, minutes en bleu)



Il est 23 h 00 min.

Il est 14 h 00 min.

Il est 18 h 00



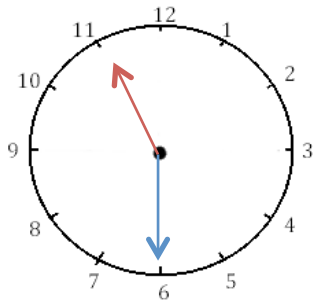
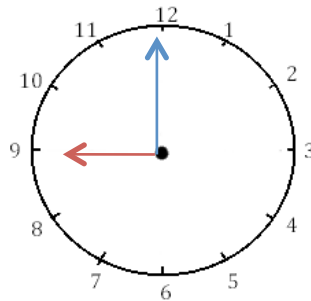
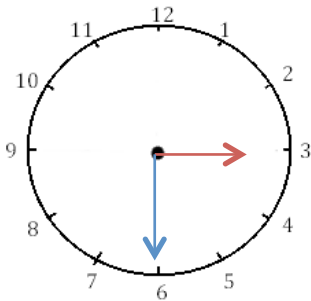



Mesures

Fiche 4

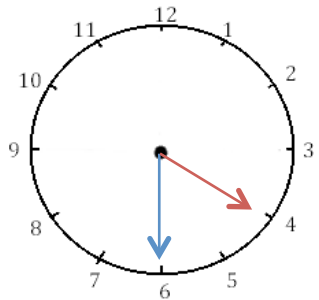
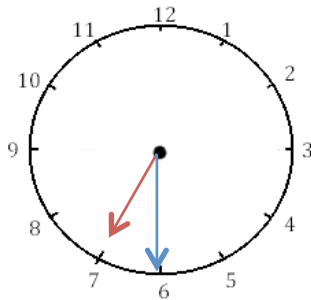
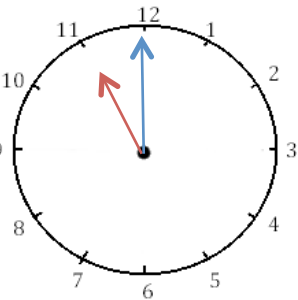
Les heures

1 J'écris les heures indiquées sur ces horloges. Nous sommes le matin.



Il est ___ h et ___ min. Il est ___ h et ___ min. Il est ___ h et ___ min.

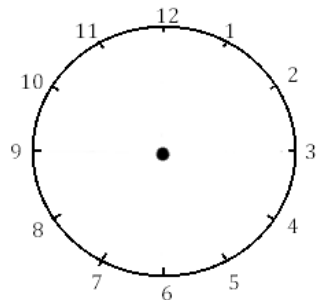
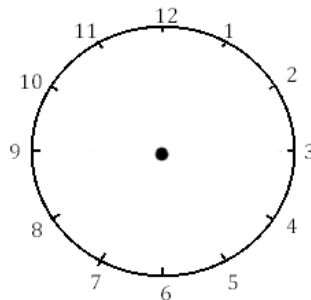
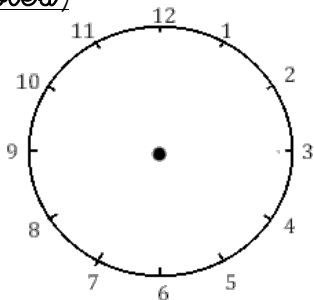
2 J'écris les heures indiquées sur ces horloges. Nous sommes l'après-midi.



Il est ___ h et ___ min. Il est ___ h et ___ min. Il est ___ h et ___ min.

3 Je place les aiguilles selon les heures indiquées. (heures en rouge, minutes

bleu)



Il est 12 h 30 min.

Il est 9 h 00 min.

Il est 15 h 30 min.

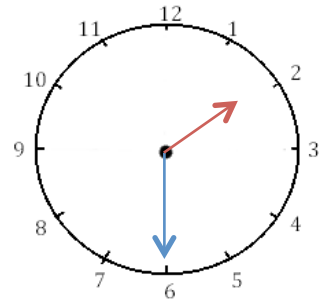
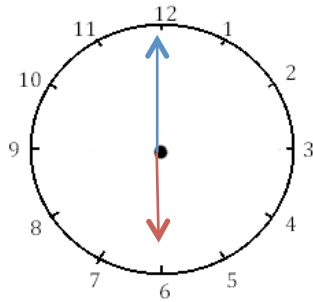
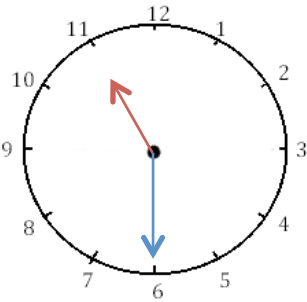


Mesures

Fiche 5

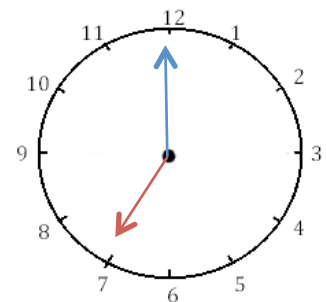
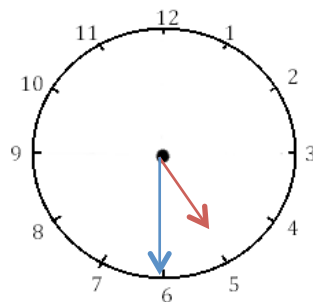
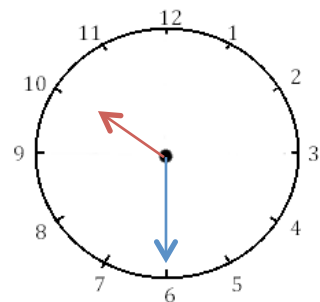
Les heures

1 J'écris les heures indiquées sur ces horloges. Nous sommes l'après-midi.




Il est ___ h et ___ min. Il est ___ h et ___ min. Il est ___ h et ___ min.

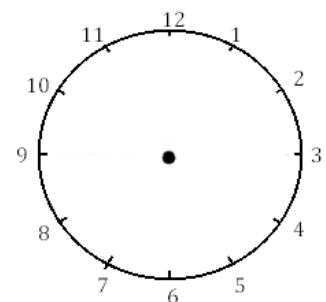
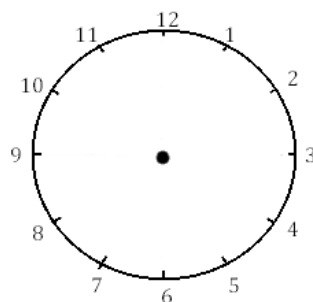
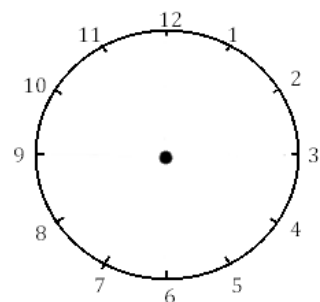
2 J'écris les heures indiquées sur ces horloges. Nous sommes le matin.



Il est ___ h et ___ min. Il est ___ h et ___ min. Il est ___ h et ___ min.



3 Je place les aiguilles selon les heures indiquées. (heures en rouge, minutes en bleu)



Il est 21 h 30 min.

Il est 13 h 00 min.

Il est 18 h 30 min.

