
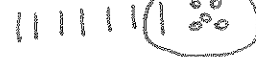


Copie les énoncés sur ton cahier et résous les problèmes.

1. Anaïs a ramassé 60 coquillages. Son frère en a ramassé 75.

Combien manque-t-il des coquillages à Anaïs pour en avoir autant que son frère ? $75 - 60 = 15$

Anaïs  Il manque 15 coquillages à
Frère  Anaïs.

2. Un vendeur ajoute 45 poissons dans un aquarium. Il y a maintenant 56 poissons.




Combien de poissons l'aquarium contenait-il au départ ?

$56 - 45 = 11$

L'aquarium contenait 11 poissons.

3. Juliette achète 5 filets contenant chacun 8 pommes.

Combien de pommes Juliette a-t-elle achetées en tout ? $5 \times 8 = 40$

 Juliette a acheté 40
 $8 + 8 + 8 + 8 + 8 = 40$ pommes en tout.

4. Margot achète un filet contenant 5 pommes jaunes et un filet

contenant 8 pommes vertes.  $5 + 8 = 13$

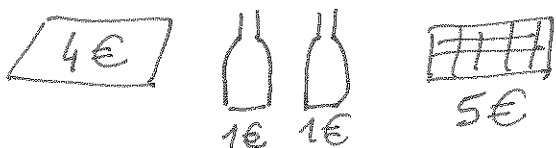
Combien de pommes Margot a-t-elle achetées en tout ?

Margot a acheté 13 pommes en tout.

5. Mathilde achète une boîte de gâteaux à 4€, deux bouteilles de soda à 1 € chacune et une tablette de chocolat à 5€.

Elle paye avec un billet de 5€ et un billet de 10 €.

Quelle somme le commerçant va-t-il rendre à Mathilde ?

Achats  $4 + 1 + 1 + 5 = 11 \text{ €}$

Mathilde donne : $5 \text{ €} + 10 \text{ €} = 15 \text{ €}$

Le commerçant rend : $15 - 11 = 4 \text{ €}$