


Mesures de masse (2) - Le kilogramme

GRANDEURS ET MESURES

Compétences : Mesurer la masse d'un objet. Utiliser l'unité usuelle : le kilogramme.
Calcul mental : Donner un nombre présenté sous la forme « ... et ... » > 499.
Photothèque : Parcours A et B, p. 93


18/05

1 Noé pèse les courses en kilogrammes. Quelle est la masse de chaque achat ?



3 kg

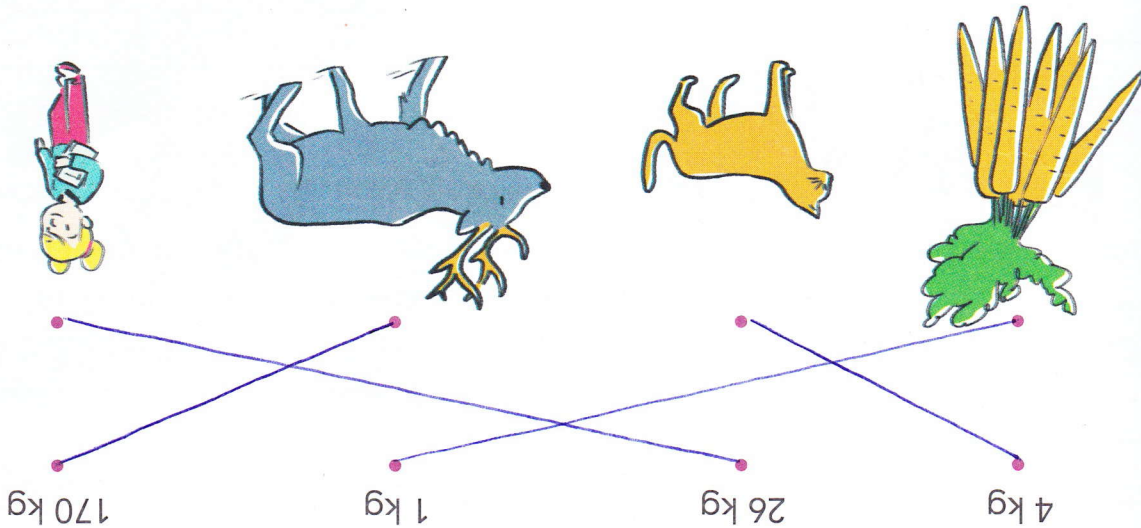
Entoure l'achat le plus lourd.
 Le filet d'oranges



6 kg

Le pack de bouteilles d'eau

2 Relie chaque objet à sa masse. Utilise ta règle.



3 Numérote ces chiens de 1 à 5, du plus léger au plus lourd.

