

Compétences : Résoudre des problèmes du champ additif portant sur la monnaie. Savoir choisir les informations utiles à la résolution.

Calcul mental : S'entraîner sur la table de multiplication par 5.


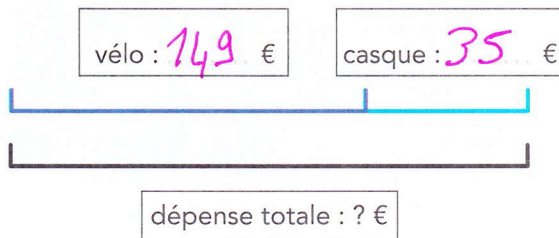
Photofiches : Parcours A p. 94 - Parcours B p. 95



- 1 Les parents de Lola lui ont acheté un vélo et un casque. Ils ont choisi un vélo bleu et un casque bleu.

Combien ont-ils dépensé ?

Complète ce schéma et **résous** le problème.



Fais tes essais.

$$\begin{array}{r} \textcircled{1} \\ 149 \\ + 35 \\ \hline 184 \end{array}$$

Écris l'opération en ligne.



$$149 + 35 = 184$$

Écris la phrase réponse.

Ils ont dépensé 184 €.

- 2 Noé a des économies. Il s'achète le jeu vidéo le moins cher. Combien lui reste-t-il ?

Complète ce schéma et **résous** le problème.



Fais tes essais.

$$\begin{array}{r} 158 \\ - 35 \\ \hline 123 \end{array}$$

Écris l'opération en ligne.

$$158 - 35 = 123$$

Écris la phrase réponse.

Il lui reste 123 €.