


Compétences : Identifier et distinguer le cercle et le disque.
 Calcul mental : Trouver la moitié des centaines entières.
 Photofiche : Parcours A et B, p. 112

02/06

Le cercle et le disque

□ □ □ □ □

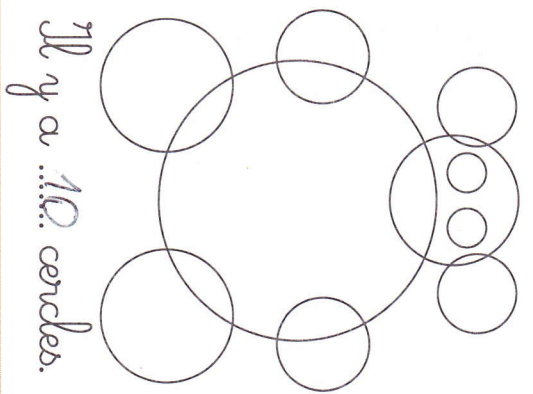
1 Colorie le disque **rouge** et le disque **vert** des feux tricolores.




2 Repasse en **bleu** le cercle de la roue avant de ce vélo.



3 Compte le nombre de cercles dans ce dessin.



4 Transforme ce cercle **vert** en disque **vert**.



5 Écris pour chaque figure **cercle** ou **disque**.

disque

cercle

cercle

disque