

multiplicatif sur la monnaie



16/06

Compétences : Résoudre des problèmes du champ multiplicatif impliquant des prix. Modéliser ces problèmes à l'aide de schémas et d'écritures mathématiques.
Calcul mental : Réciter la liste de 10 nombres qui suivent un nombre donné ≤ 499 , sans passage à la centaine.
Photofiches : Parcours A p. 94 - Parcours B p. 95

PROBLÈMES

1 Papa achète 3 écharpes. Chaque écharpe coûte 9 €.

Calcule la somme d'argent que Papa va dépenser. Observe ce schéma et résous le problème.



Fais tes essais.



Écris l'opération en ligne.

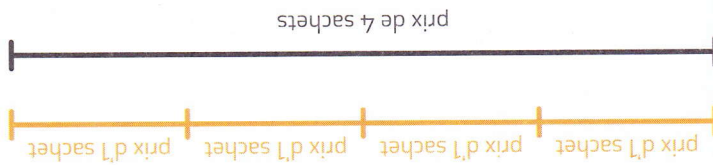
$$3 \times 9 = 27$$

Écris la phrase réponse.


Papa va dépenser 27 €.

2 Le grand-père de Lola achète 4 sachets de graines à semer au prix de 2 € le sachet. Combien a-t-il dépensé ?

Observe ce schéma et résous le problème.



Fais tes essais.



Écris l'opération en ligne.

$$4 \times 2 = 8$$

Écris la phrase réponse.

Il a dépensé 8 €.

