

# Les nombres jusqu'à 999 (4)



## NOMBRES ET CALCULS

**Compétences :** Dénombrer des collections ≤ 999. Connaître et utiliser les diverses représentations d'un nombre ≤ 999 en insistant sur les nombres à 9 dizaines. Connaître la valeur des chiffres en fonction de leur position.  
**Calcul mental :** Ajouter un nombre à deux chiffres à un nombre à trois chiffres.  
**Photofiches :** Parcours A p. 116 - Parcours B p. 117

1 Pour un tournoi de tennis, le club a acheté 900 balles de tennis, le président 80 balles et Noé a ajouté ses 12 balles.

**Ecris** le nombre total de balles en lettres, puis en chiffres dans le tableau.

9	9	2
c	d	u




neuf - cent quatre - vingt - deux

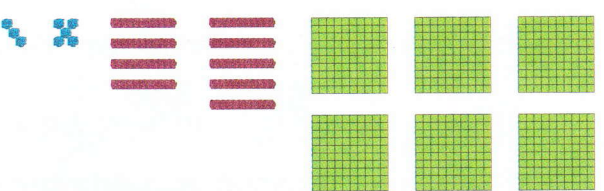
Il y a 992 balles.

2 **Ecris** ces deux nombres en lettres.

**Souligne** le mot qui marque leur différence.



avec - cent - quatre - vingt - huit



avec - cent - quatre - vingt - dix - huit

3 **Complete** ces décompositions.

$$695 = 600 + 95$$

$$887 = 800 + 87$$

$$798 = 700 + 98$$

$$589 = 500 + 89$$

$$695 = 600 + 90 + 5$$

$$887 = 800 + 80 + 7$$

$$798 = 700 + 90 + 8$$

$$589 = 500 + 80 + 9$$

4 **Ecris** chaque nombre en lettres.

- 9 d 5 c 4 u :
- 7 u 9 c 8 d :
- 7 c 2 u 9 d :