

# Additions de 2 nombres à 3 chiffres avec retenue


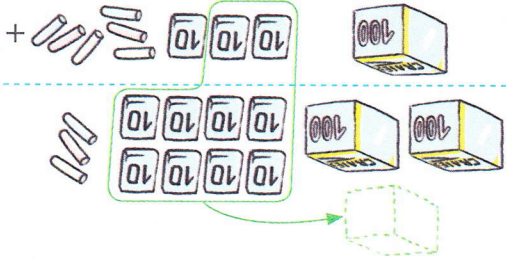
## NOMBRES ET CALCULS

**Compétence :** Additionner 2 nombres à 3 chiffres avec retenue à la centaine.  
**Calcul mental :** Trouver le complément à la centaine supérieure d'un nombre ayant 0 unité.  
**Photoche :** Parcours A et B, p. 102

--	--	--	--	--

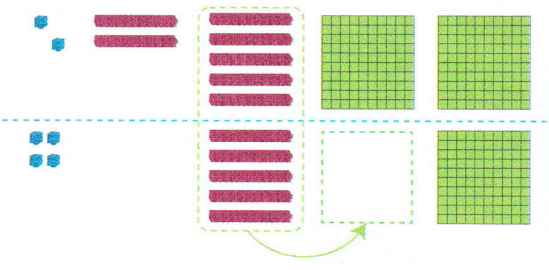
**1** Calcule le total des craies de la classe. **Complète** l'opération.

4	1	4
1	3	1
2	8	2
c	d	n



**2** Complète cette addition et calcule.

4	2	4
2	7	2
1	5	1
c	d	n



$$154 + 272 = 426$$

**3** Complète ces additions et calcule.

4	2	4
2	4	2
1	9	1
c	d	n

4	8	4
1	9	1
2	9	2
c	d	n

**4** Calcule ces additions.

4	8	2
1	5	8
3	2	4
c	d	n

4	5	7
1	7	6
2	8	1
c	d	n

3	6	8
1	9	4
1	7	4
c	d	n