

















Mes p'tits problèmes hebdomadaires

CE2 – fiche n° 7

1	Dans son porte-monnaie, Emma a 3 billets de 10€, 6 pièces de 2€, 4 tickets de tram et 7 billets de 5€. Combien a-t-elle d'argent en tout ?	   	
<div style="display: flex; border: 1px solid black; height: 80px; width: 100%;"></div>			
2			   
<div style="display: flex; border: 1px solid black; height: 80px; width: 100%;"></div>			
3		   	
<div style="display: flex; border: 1px solid black; height: 80px; width: 100%;"></div>			
4			   
<div style="display: flex; border: 1px solid black; height: 80px; width: 100%;"></div>			

3 étoiles : Une si l'opération ou le dessin sont adaptés, une si le résultat est juste, une si la phrase réponse est bien formulée
 + 1 cœur – bonus si l'orthographe est correcte.