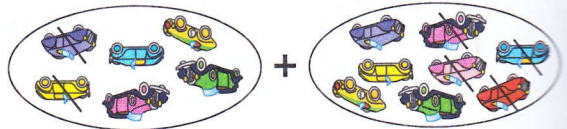


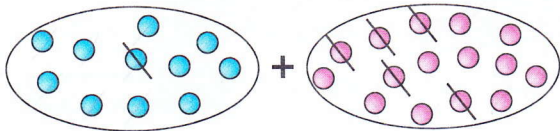
S'entraîner

Parcours A



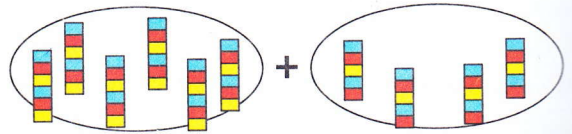
$(8 - 4) + (6 - 2) = 4 + 4 = 8$

Complète et calcule l'égalité qui correspond.



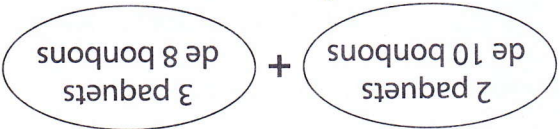
$(15 - 5) + (11 - 1) = 10 + 10 = 20$

Écris et calcule l'égalité qui correspond.



$(4 \times 5) + (6 \times 6) = 20 + 36 = 56$

Complète et calcule l'égalité qui correspond.



$(2 \times 10) + (3 \times 8) = 20 + 24 = 44$

Écris et calcule l'égalité qui correspond.

Calcul.

$(8 - 4) + (6 - 1) = 4 + 5 = 9$   
 $(12 - 4) + (17 - 9) = 8 + 8 = 16$

Calcul.

$(7 \times 3) + (4 \times 2) = 21 + 8 = 29$   
 $(9 \times 2) + (6 \times 4) = 18 + 24 = 42$

Calcul.

$(10 \times 7) + 8 = 70 + 8 = 78$   
 $(10 \times 2) + (10 \times 5) = 20 + 50 = 70$

Calcul.

$(100 \times 4) + (10 \times 3) = 400 + 30 = 430$   
 $(100 \times 9) + (10 \times 5) = 900 + 50 = 950$


Parcours B



Réponds le problème en utilisant un calcul avec des parenthèses. J'ai acheté 3 paquets de gâteaux à 2 € l'un et 4 boîtes de chocolats à 5 € l'une. Combien ai-je dépensé ?

$(3 \times 2) + (4 \times 5) = 6 + 20 = 26$

Répondre des problèmes



Réponds le problème en utilisant un calcul avec des parenthèses. J'avais 18 billes bleues et 24 billes vertes. J'ai perdu 5 billes bleues et 10 billes vertes. Combien de billes me reste-t-il ?

$(18 - 5) + (24 - 10) = 13 + 14 = 27$

J'ai dépensé 26 €

J'ai me reste 27 billes