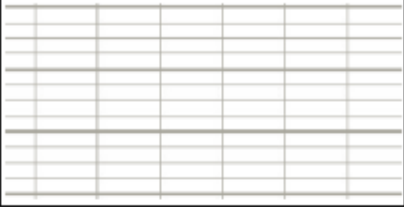

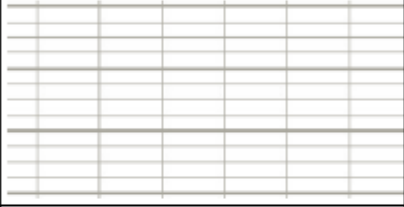

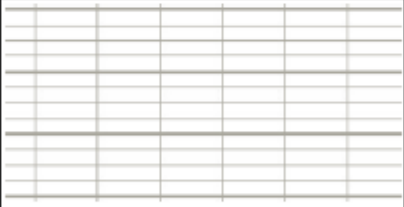

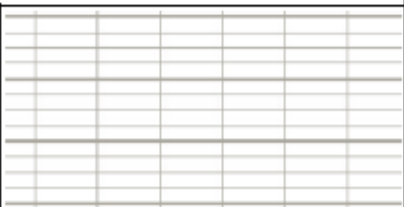



1	Mattéo achète 8 paquets d'images. Dans chaque paquet, il y a 5 images. <i>Combien d'images a-t-il achetées ?</i>		
2	La maman de Floriane a apporté 20 bonbons. Elle les partage équitablement entre Floriane, Laurine et Anaëlle. <i>Combien chaque fille aura de bonbons ?</i>		
3	Alex joue au jeu de l'oie. Il avance de 20 cases et arrive sur la case 36. <i>Sur quelle case était-il avant d'avancer ?</i>		
4	Jonathan a 4 billets de 100€ et 4 pièces de 1€ et 2 billets de 10€. <i>Combien a-t-il d'argent en tout ?</i>		

3 étoiles : Une si l'opération ou le dessin sont adaptés, une si le résultat est juste, une si la phrase réponse est bien formulée
+ 1 cœur –bonus si l'orthographe est correcte.