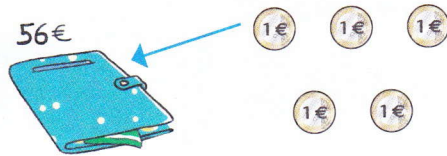


Compétences : Calculer des additions de 2 nombres à 2 chiffres en ligne. Comparer et s'approprier des stratégies de calcul.
Calcul mental : S'entraîner sur la table de multiplication par 4.
Photofiches : Parcours A p. 86 - Parcours B p. 87




1 Noé et Lola ont tous les deux 56 €. Ils reçoivent chacun 25 €. Ils calculent leur total de deux manières différentes. **Complète** leurs calculs.

Noé ajoute d'abord les pièces de 1€, puis le billet de 20 €.



1^{re} étape : $56 + 5 = \square$
 2^{de} étape : $\square + 20 = \square$

Lola ajoute d'abord le billet de 20 €, puis les pièces de 1 €.




1^{re} étape : $56 + 20 = \square$
 2^{de} étape : $\square + 5 = \square$

Ils ont chacun un total de euros.

2 **Calcule** cette somme totale des deux manières.

48 € et



En commençant par **les pièces**. En commençant par **le billet**.

1^{re} étape : $48 + \square = \square$ 1^{re} étape : $48 + \square = \square$
 2^{de} étape : $\square + \square = \square$ 2^{de} étape : $\square + \square = \square$

3 **Calcule** l'addition en 2 étapes avec la méthode de ton choix.

$59 + 27$

2^{de} étape : $\square + \square = \square$

1^{re} étape : $59 + \square = \square$

Donc : $59 + 27 = \square$

4 **Calcule** ces additions avec la méthode de ton choix.

$45 + 36$

$56 + 39$

$45 + \square = \square$

$56 + \square = \square$

$\square + \square = \square$

$\square + \square = \square$

Donc : $45 + 36 = \square$

Donc : $56 + 39 = \square$