

**6**

**Parcours A**

**FICHER PAGES 20 ET 21**

**Lecture de l'heure**




Si tu as besoin d'aide, regarde le Retenir à la page 24 de ton fichier.


**A1** Écris ces heures. \_\_\_\_\_



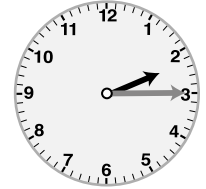
matin : ..... h .....



matin : ..... h .....

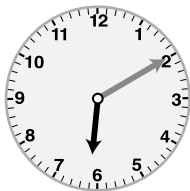


matin : ..... h .....



après-midi : ..... h .....

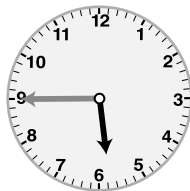
**A2** Colorie l'heure correspondant à chaque pendule. \_\_\_\_\_



après-midi

06 h 10


18 h 10



matin

05 h 45

17 h 45



après-midi

02 h 05

14 h 05



soir

11 h 20

23 h 20

**A3** Écris correctement ces heures de l'après-midi ou du soir. \_\_\_\_\_

• 05 h 30

• 03 h 15

• 08 h 45

• 10 h 20

**A4** Entre quelles graduations la petite aiguille des heures se trouve-t-elle quand il est : \_\_\_\_\_

• 08 h 40 ? entre ..... h et ..... h

• 13 h 20 ? entre ..... h et ..... h

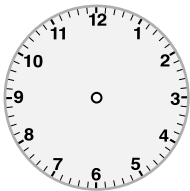
• 01 h 10 ? entre ..... h et ..... h

• 16 h 20 ? entre ..... h et ..... h

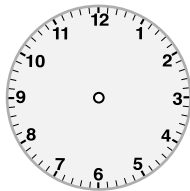
• 03 h 50 ? entre ..... h et ..... h

• 22 h 45 ? entre ..... h et ..... h

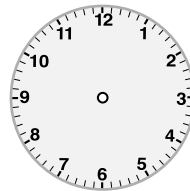
**A5** Dessine les aiguilles sur les pendules. Attention ! **positionne** bien celle des heures. \_\_\_\_\_



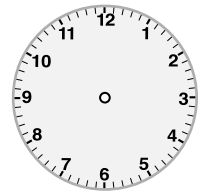
matin : 08 h 00



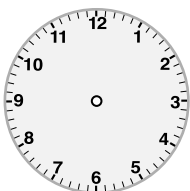
après-midi : 18 h 15



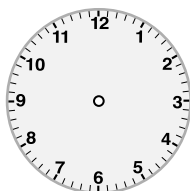
matin : 09 h 25



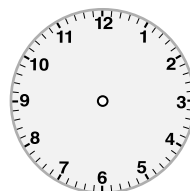
après-midi : 14 h 45



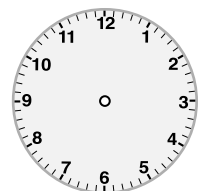
matin : 11 h 05



après-midi : 16 h 35



matin : 04 h 50



après-midi : 19 h 10